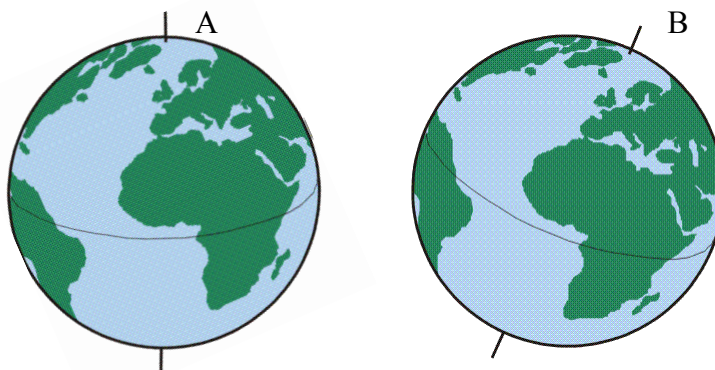


VERIFICA DI SCIENZE

1) QUALE E' L'IMMAGINE GIUSTA?
PERCHE'?

.....
.....
.....



2) LA TERRA FA PARTE DEL SISTEMA PERCHE' TUTTI I PIANETI CHE LO
COMPONGONO RUOTANO ATTORNO A

3) COLLEGA OGNI NOME ALLA SUA DEFINIZIONE CON UNA FRECCIA:

NOME	DEFINIZIONE
SOLE	STELLA
LUNA	PIANETA
TERRA	SATELLITE

4) OSSERVA I PIANETI DEL NOSTRO SISTEMA NEL DISEGNO QUI SOTTO; ESSI POSSONO
ESSERE DISTINTI IN:

PIANETI TERRESTRI (sottolinea in blu il loro nome) E
PIANETI GIOVIANI (sottolinea in verde il loro nome)



5) GLI ASTEROIDI VENGONO CHIAMATI ANCHE PERCHE':

- SONO LONTANI DALLA TERRA
- SONO DI PICCOLE DIMENSIONI
- SI MUOVONO VELOCEMENTE

6) PARTI DI ASTEROIDI PASSANDO VICINO ALLA TERRA POSSONO VENIRE ATTIRATI DA
ESSA; IN QUESTO CASO PUO' CAPITARE CHE CADANO SULLA TERRA E ALLORA
VENGONO CHIAMATI..... OPPURE POSSONO BRUCIARE PRIMA DI
ARRIVARE SULLA TERRA E ALLORA VENGONO CHIAMATI OPPURE
.....

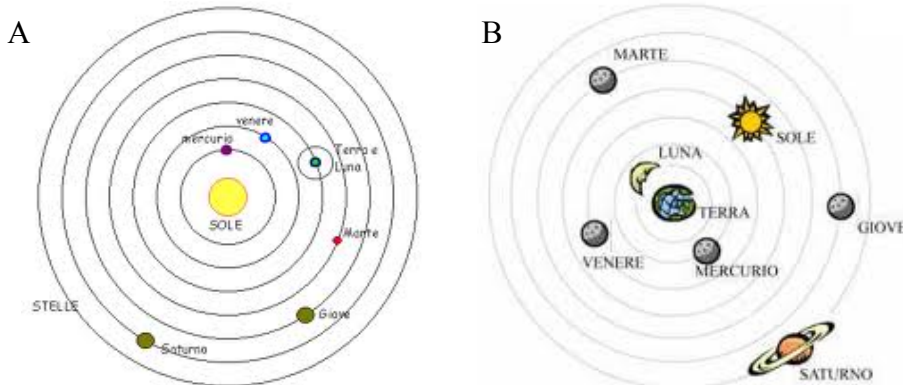
7) ORDINA SULLA LINEA DEL TEMPO IL NOME DI QUESTI SCIENZIATI E LE LORO TEORIE:

COPERNICO TEORIA GEOCENTRICA TEORIA ELIOCENTRICA TOLOMEO



	← quale scienziato? →	
	← quale teoria? →	

8) OSSERVA I DUE DISEGNI QUI SOTTO POI RISPONDI:

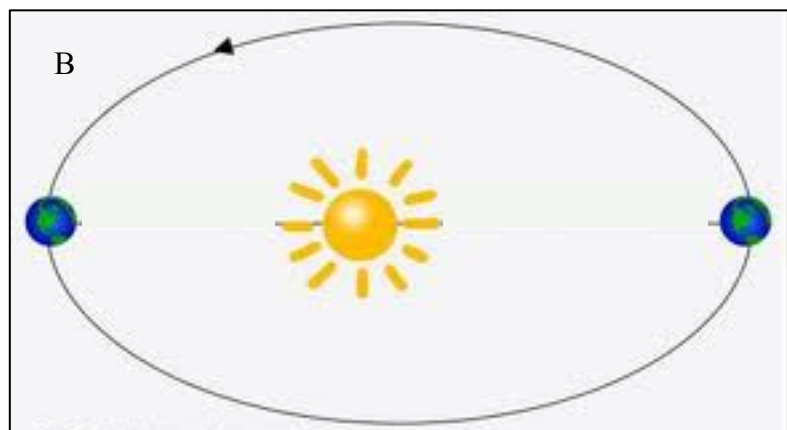
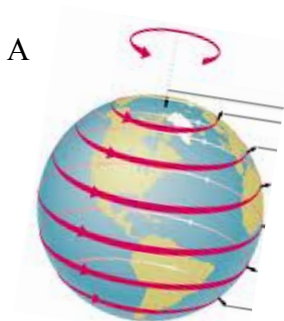


- QUALE IMMAGINE RAPPRESENTA LA TEORIA GEOCENTRICA? A OPPURE B
 PER QUESTA TEORIA AL CENTRO DELL'UNIVERSO SI TROVA ATTORNO A
 CUI RUOTANO TUTTI I CORPI CELESTI. SECONDO QUESTA TEORIA LA TERRA CHE
 FORMA HA?

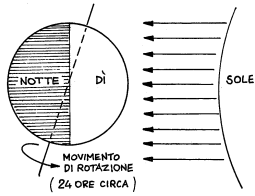
- QUALE IMMAGINE RAPPRESENTA LA TEORIA ELIOCENTRICA? A OPPURE B
 PER QUESTA TEORIA AL CENTRO DELL'UNIVERSO SI TROVA ATTORNO A
 CUI RUOTANO TUTTI I CORPI CELESTI. SECONDO QUESTA TEORIA LA TERRA CHE
 FORMA HA?

9) OSSERVA LE FRECCE NEI DISEGNI QUI SOTTO E RISPONDI: LA TERRA FA DUE
 MOVIMENTI: QUALI?

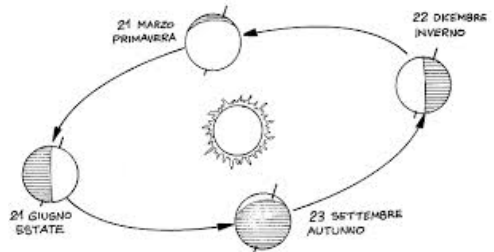
- A) MOTO DI ATTORNO A
- B) MOTO DI ATTORNO A



10) IL FATTO CHE LA TERRA FACCIA DUE TIPI DI MOVIMENTI HA DELLE CONSEGUENZE
 IMPORTANTI.
 OSSERVA I DISEGNI NELLA PAGINA SUCCESSIVA E SPIEGA LE CONSEGUENZE CHE VEDI
 DESCRITTE:



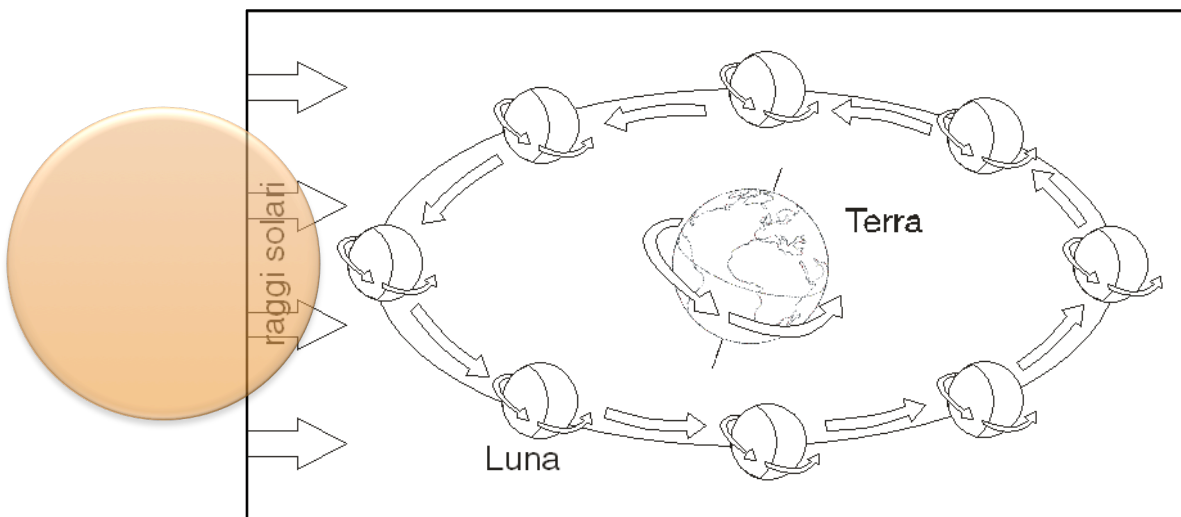
SICCOME LA TERRA RUOTA
 ATTORNO A,
 ALLORA SUCCEDDE CHE,



SICCOME LA TERRA RUOTA
 ATTORNO A,
 ALLORA SUCCEDDE CHE,

11) OSSERVA LE FRECCE NEL DISEGNO CHE TROVI NELLA PAGINA SUCCESSIVA E RISPONDI: LA LUNA FA TRE MOVIMENTI: QUALI?

MOTO DI ATTORNO A
 MOTO DI ATTORNO A
 MOTO DI ATTORNO A



12) NOI VEDIAMO LA FORMA DELLA LUNA NEL CIELO IN MODI DIVERSI E DIAMO AD OGNI "FASE" UN NOME DIVERSO; QUALE? INSERISCI I NOMI GIUSTI NEI CARTELLINI:

LUNA NUOVA


LUNA PIENA

LUNA CALANTE

LUNA CRESCENTE

[Empty box]

[Empty box]

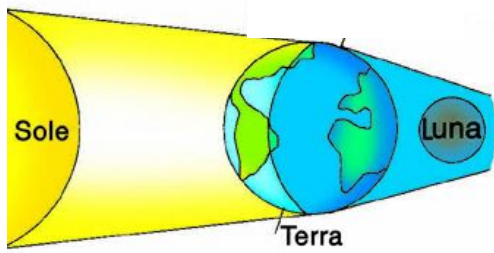


[Empty box]

[Empty box]

13) IN GENERALE SI HA UN'ECLISSI QUANDO ACCADE CHE

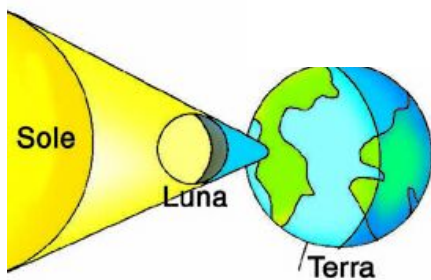
14) OSSERVA I DISEGNI QUI SOTTO E SCRIVI IN ORDINE QUALI CORPI CELESTI SONO ALLINEATI PARTENDO DA SINISTRA.



DA SINISTRA VERSO DESTRA VEDO:
.....

SUCCEDE CHE:
.....

QUESTA E' UNA ECLISSI DI



DA SINISTRA VERSO DESTRA VEDO:
.....

SUCCEDE CHE:
.....

QUESTA E' UNA ECLISSI DI