



ESERCIZIO 1- Osserva i disegni e le informazioni



Completa la tabella dei dati così come sei abituato a fare

DATI			DOMANDA
MERCE	QUANTITA'	PREZZO UNITARIO	PREZZO TOTALE

Spiega a PAROLE il procedimento da eseguire per rispondere alle domande:

.....

.....

Esegui i calcoli richiesti e completa la tabella:

E ora rispondi a questa domanda: QUAL E' IL COSTO COMPLESSIVO DI TUTTA LA MERCE?

DATI		DOMANDA
MERCE	PREZZO TOTALE	PREZZO COMPLESSIVO


Spiega a PAROLE il procedimento da eseguire per rispondere alla domanda:

.....

.....

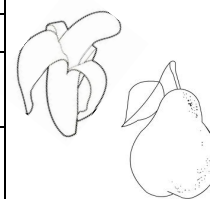
Esegui il calcolo richiesto e completa la tabella:

ESERCIZIO 2- Osserva i disegni e le informazioni.



Completa la tabella dei dati così come sei abituato a fare

DATI			DOMANDA
MERCE	QUANTITA'	PREZZO TOTALE	PREZZO UNITARIO




Spiega a PAROLE il procedimento da eseguire per rispondere alla domanda:

.....

Esegui i calcoli richiesti e completa la tabella:

Se Maria acquista 3 banane e 4 pere, quanto spenderà?



DATI			DOMANDA	
MERCE	QUANTITA'	PREZZO UNITARIO	PREZZO TOTALE	PREZZO COMPLESSIVO

Spiega a PAROLE il procedimento da eseguire per rispondere alla domanda:

.....
.....

Esegui i calcoli richiesti e completa la tabella:

ESERCIZIO 3- Leggi attentamente il testo

LA SIGNORA ANNA HA TRE FIGLI A CUI DEVE COMPERARE MATERIALE PER LA SCUOLA. AL SUPERMERCATO LA MAMMA COMPRA UN PACCO DA 12 QUADERNONI CHE PAGA 21,60 EURO E UNA CONFEZIONE CHE CONTIENE 36 PENNARELLI CHE COSTA 28,80 EURO. A CASA LA SIGNORA DIVIDE ESATTAMENTE IL MATERIALE TRA I SUOI TRE FIGLI.

Rispondi alle domande:

- 1) Chi è la persona che fa gli acquisti?
- 2) Cosa deve comperare?
- 3) Quanti figli ha?
- 4) Cosa acquista la signora? (completa la tabella)

DATI		
MERCE	QUANTITA'	PREZZO
a-		
b-		

- 5) Cosa fa a casa la signora con il materiale acquistato?

DOMANDA: QUANTI QUADERNONI DARA' AD OGNI FIGLIO?

QUADERNONI		
DATI		DOMANDA
QUANTITA' TOTALE	NUMERO FIGLI	QUANTITA' PER FIGLIO

QUALE OPERAZIONI DEVE ESEGUIRE PER FARE PARTI UGUALI DI UNA QUANTITA'?

+	-	X	:
---	---	---	---

Esegui l'operazione e completa la tabella

DOMANDA: QUANTI PENNARELLI DARA' AD OGNI FIGLIO?

PENNARELLI		
DATI		DOMANDA
QUANTITA' TOTALE	NUMERO FIGLI	QUANTITA' PER FIGLIO

QUALE OPERAZIONI DEVE ESEGUIRE PER FARE PARTI UGUALI DI UNA QUANTITA'?

+	-	X	:
---	---	---	---

Esegui l'operazione e completa la tabella

DOMANDA: QUANTO E' COSTATO OGNI QUADERNONE?

DATI			DOMANDA
MERCE	QUANTITA'	PREZZO TOTALE	PREZZO UNITARIO
QUADERNONI			

Spiega a PAROLE il procedimento da eseguire per rispondere alla domanda:

.....
.....

Esegui il calcolo richiesto e completa la tabella:

DOMANDA: QUANTO E' COSTATO OGNI PENNARELLO?

DATI			DOMANDA
MERCE	QUANTITA'	PREZZO TOTALE	PREZZO UNITARIO
PENNARELLI			

Spiega a PAROLE il procedimento da eseguire per rispondere alla domanda:

.....
.....

Esegui il calcolo richiesto e completa la tabella:

DOMANDA: QUANTO HA SPESO PER OGNI FIGLIO?

DATI			DOMANDE	
MERCE	QUANTITA' PER FIGLIO	PREZZO UNITARIO	PREZZO TOTALE PER FIGLIO	PREZZO COMPLESSIVO PER FIGLIO
QUADERNONI				
PENNARELLI				

Spiega a PAROLE il procedimento da eseguire per rispondere alla domanda su QUANTO SPENDE PER I QUADERNONI/PER I PENNARELLI PER OGNI FIGLIO

.....
.....

Esegui i due calcoli richiesti e completa la tabella:

Spiega a PAROLE il procedimento da eseguire per rispondere alla domanda su QUANTO SPENDE COMPLESSIVAMENTE PER OGNI FIGLIO

.....
.....

Esegui il calcolo richiesto e completa la tabella: